

# Evaluation de mathématiques

Période 1

● **Nombres et calcul** / 20

1- Complète avec un nombre qui convient

$8 + 7 > 8 + \underline{\quad}$

$9 + \underline{\quad} = 8 + 8$

$16 + 2 < 2 + \underline{\quad}$

$24 > 20 + \underline{\quad}$

$42 = \underline{\quad} + \underline{\quad}$

2- Complète les suites de dizaines :

	<b>30</b>			<b>60</b>	
--	-----------	--	--	-----------	--

					<b>90</b>	
--	--	--	--	--	-----------	--

3- Range les nombres dans l'ordre croissant : 52 – 46 – 30 – 69 – 25

	>		>		>		>	
--	---	--	---	--	---	--	---	--

1- Complète et dessine : **48**









d	u

**48** c'est \_\_\_\_\_ dizaines et \_\_\_\_\_ unités.

48 = \_\_\_\_\_ + 8

48 = \_\_\_\_\_ + \_\_\_\_\_ + \_\_\_\_\_ + \_\_\_\_\_ + 8

● **Organisation et gestion des données** / 10

								
	Une règle	Un crayon	Des ciseaux	Un livre	Une gomme	Une ardoise	Un pot de colle	Une craie
1€		X						X
2€	X				X		X	
3€			X					
4€				X		X		

Combien coûte une règle ? \_\_\_\_\_ Combien coûtent un crayon et des ciseaux ? \_\_\_\_\_

Quels objets coûtent 4 euros ? \_\_\_\_\_

Puis-je acheter une ardoise et une craie avec 5 euros ? \_\_\_\_\_