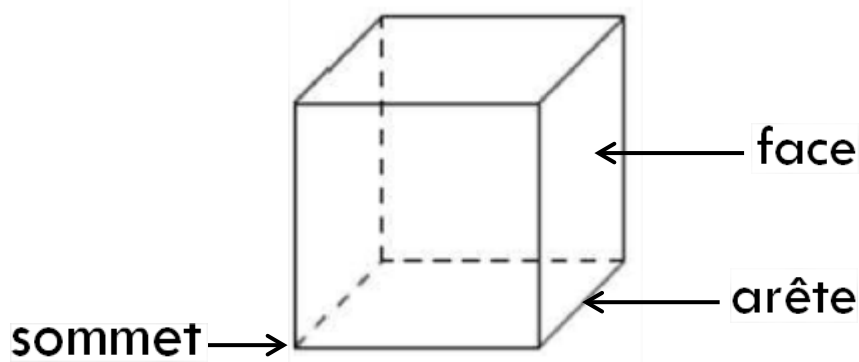



Les solides droits

Les solides sont des objets en relief.

Un solide droit a des **sommets**, des **arêtes** et des **faces**.



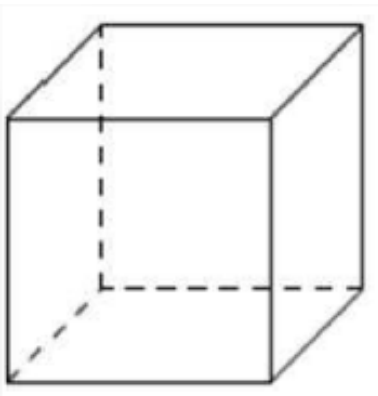
Le pavé



Le pavé droit a

- 6 faces,
- ses faces sont des rectangles.

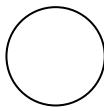
Le cube



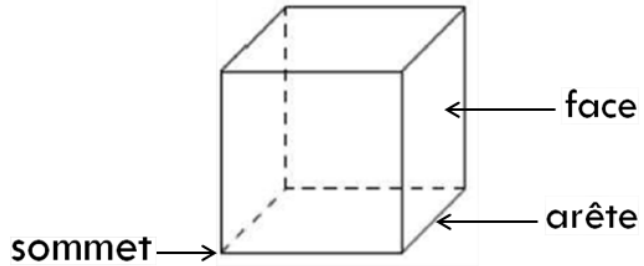
Le cube droit a

- 6 faces,
- ses faces sont des carrés identiques.

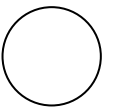
Géométrie
Les solides droits



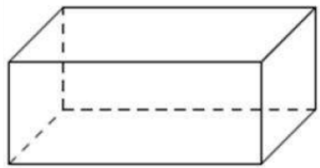
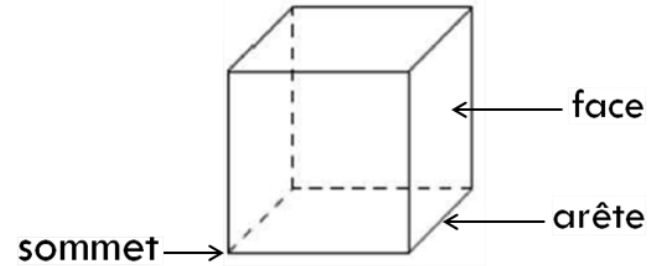
Les solides sont des objets en relief.
Un solide droit a des **sommets**, des **arêtes** et des **faces**.



Géométrie
Les solides droits




Les solides sont des objets en relief.
Un solide droit a des **sommets**, des **arêtes** et des **faces**.



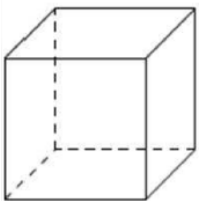
Le pavé

- a 6 faces,
- ses faces sont des rectangles.



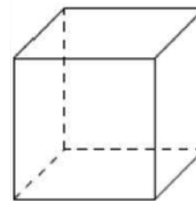
Le pavé

- a 6 faces,
- ses faces sont des rectangles.



Le cube

- a 6 faces,
- ses faces sont des carrés identiques.



Le cube

- a 6 faces,
- ses faces sont des carrés identiques.

