

Grandeurs et mesures
Mesurer à la règle

Pour mesurer un segment, on utilise une règle graduée en centimètre. On écrit cm.

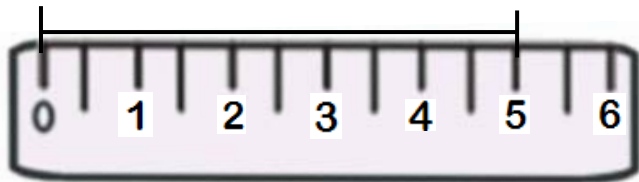
❖ Je positionne **la règle le long du trait** :



❖ Puis je place le **zéro de la règle au début du trait** :



❖ Puis je mesure **le nombre de centimètres** du trait :



Le segment mesure 5 centimètres, on écrit **5 cm**.

Grandeurs et mesures
Mesurer à la règle

Pour mesurer un segment, on utilise une règle graduée en centimètre. On écrit cm.

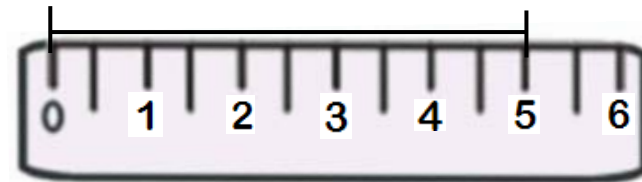
❖ Je positionne **la règle le long du trait** :



❖ Puis je place le **zéro de la règle au début du trait** :



❖ Puis je mesure **le nombre de centimètres** du trait :



Le segment mesure 5 centimètres, on écrit **5 cm**.

Grandeurs et mesures

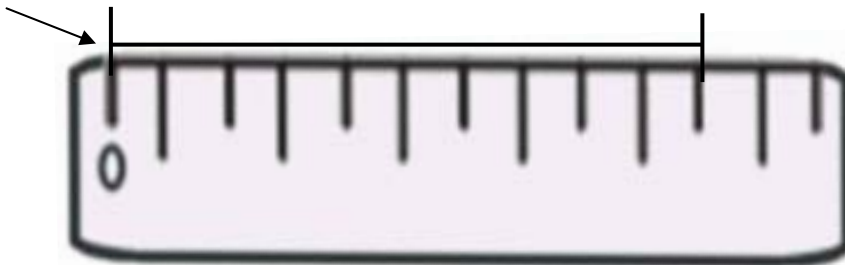
Mesurer à la règle

Pour mesurer un segment, on utilise une règle graduée en centimètre. On écrit cm.

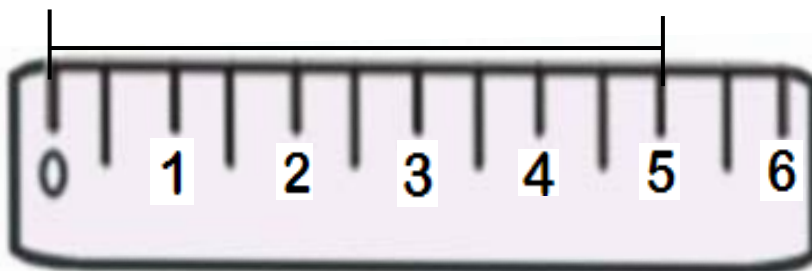
❖ Je positionne **la règle le long du trait** :



❖ Puis je place le **zéro de la règle au début du trait** :



❖ Puis je mesure **le nombre de centimètres** du trait :



Le segment mesure 5 centimètres, on écrit **5 cm**.