

Numération
La monnaie



La monnaie sert à **payer** nos dépenses.
Notre monnaie s'appelle **l'euro**.
Nous disposons

❖ de pièces :

de 1 euros



de 2 euros



❖ de billets :

de 5 euros



de 10 euros



Pour payer 5 euros, je peux utiliser
des pièces de 2 et 1 euros ou



le billet de 5 euros



Numération
La monnaie



La monnaie sert à **payer** nos dépenses.
Notre monnaie s'appelle **l'euro**.
Nous disposons

❖ de pièces :

de 1 euros



de 2 euros



❖ de billets :

de 5 euros



de 10 euros



Pour payer 5 euros, je peux utiliser
des pièces de 2 et 1 euros ou



le billet de 5 euros



Numération
La monnaie



La monnaie sert à **payer** nos dépenses.
Notre monnaie s'appelle **l'euro**.
Nous disposons

❖ de pièces :

de 1 euros



de 2 euros

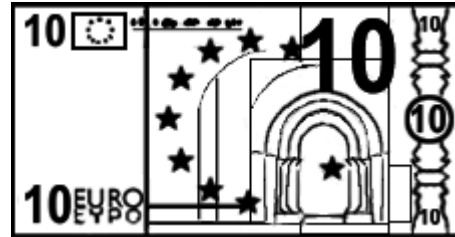


❖ de billets :

de 5 euros



de 10 euros



Pour payer 5 euros, je peux utiliser
des pièces de 2 et 1 euros ou



le billet de 5 euros



Numération
La monnaie



La monnaie sert à **payer** nos dépenses.
Notre monnaie s'appelle **l'euro**.
Nous disposons

❖ de pièces :

de 1 euros



de 2 euros




❖ de billets :

de 5 euros



de 10 euros



Pour payer 5 euros, je peux utiliser
des pièces de 2 et 1 euros ou



le billet de 5 euros



La monnaie

La monnaie sert à **payer** nos dépenses.

Notre monnaie s'appelle **l'euro**.

Nous disposons

❖ **de pièces :**

de **1** euros



de **2** euros

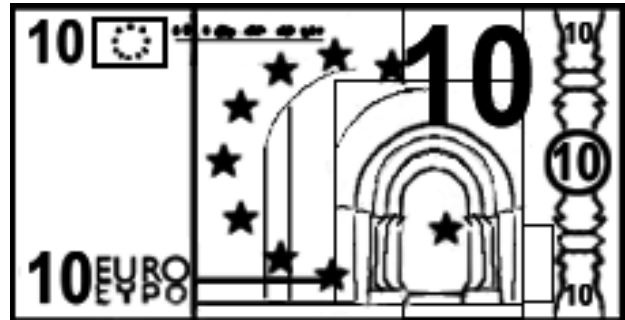


❖ **de billets :**

de **5** euros



de **10** euros



Pour payer 5 euros, je peux utiliser

des pièces de 2 et 1 euros

ou

le billet de 5 euros



La monnaie

La monnaie sert à **payer** nos dépenses.

Notre monnaie s'appelle **l'euro**.

Nous disposons

❖ **de pièces :**

de **1** euros



de **2** euros



❖ **de billets :**

de **5** euros



de **10** euros



Pour payer 5 euros, je peux utiliser

des pièces de 2 et 1 euros

ou

le billet de 5 euros

