



## Problèmes

1- Timon a **9 billes** dans son sac. A la récréation, il gagne **3 billes**.  
**Combien en a-t-il maintenant ?**

2- Marine a fabriqué un collier avec **10 perles roses** et **6 perles bleues**.  
**Combien de perles compte le collier de Marine ?**



3-  Dans notre classe, il y a **11 filles** et **13 garçons**.  
**Combien sommes-nous d'enfants ?**  

**Et avec la maîtresse, combien sommes-nous ?**

## Problèmes

1- Timon a **9 billes** dans son sac. A la récréation, il gagne **3 billes**.  
**Combien en a-t-il maintenant ?**

2- Marine a fabriqué un collier avec **10 perles roses** et **6 perles bleues**.  
**Combien de perles compte le collier de Marine ?**

3-  Dans notre classe, il y a **11 filles** et **13 garçons**.  
**Combien sommes-nous d'enfants ?**  

**Et avec la maîtresse, combien sommes-nous ?**