





Comparer des quantités

Plus que - Moins que


1- Colorie l'ensemble où il y a **le plus** de fleurs.



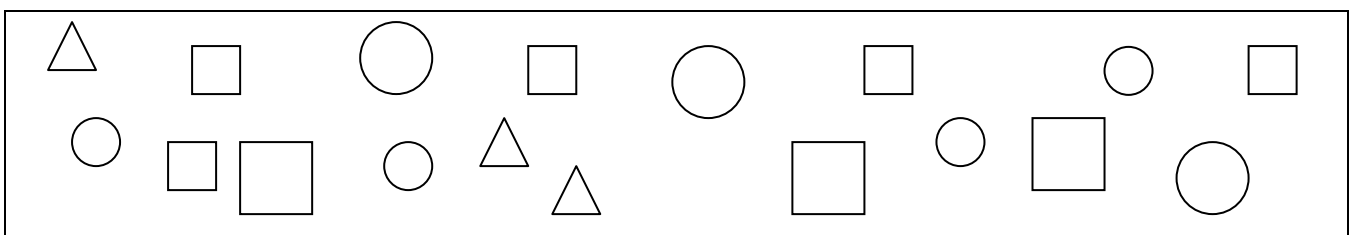
2- Entoure ce qu'il y a **le moins** : ABEILLES ou COCCINELLES ?



3- Relie un lapin à son terrier. Ecris s'il y a **plus ou moins** de lapins que de terriers ? _____



4- Compte les ronds puis les carrés. Entoure : Il y a **PLUS - AUTANT - MOINS** de carrés que de ronds.





Comparer des quantités
Plus que - Moins que



Nombre d'abeilles  : _____

Nombre de coccinelles  : _____

Il y a **plus** de coccinelles  **que** d'abeilles  .



Il y a **moins** d'abeilles  **que** de coccinelles  .

Comparer des quantités
Plus que - Moins que



Nombre d'abeilles  : _____

Nombre de coccinelles  : _____

Il y a **plus** de coccinelles  **que** d'abeilles  .

Il y a **moins** d'abeilles  **que** de coccinelles  .