

Le temps
Lire l'heure (2)

1- **Différentes horloges**

Colle l'horloge correspondante:

Affichage numérique

Affichage à aiguilles

2- **Comment lire l'heure**

Complète :

Sur la plupart des horloges, il y a 2 aiguilles :

➡ la petite qui indique les _____.

➡ la grande qui indique les _____.

Il faut _____ minutes pour faire une heure.

Pour lire l'heure :

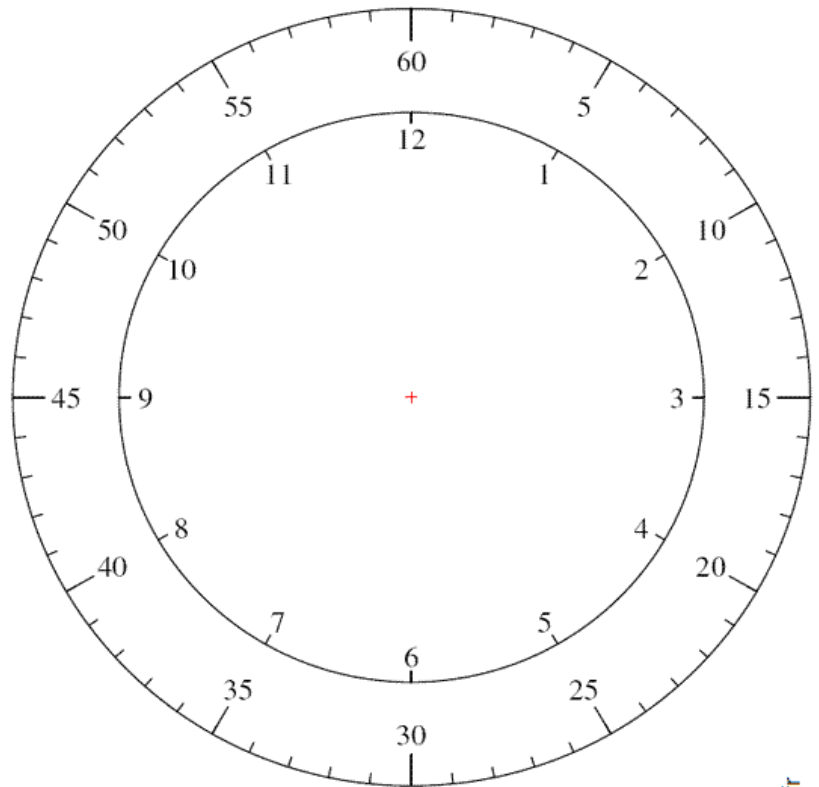
- je regarde d'abord où se trouve la

_____.

(Le matin, les heures se lisent de 1h à 12h.
L'après-midi, on continue après 12h :
le 1 devient 13h, le 2 devient 14h...)


- je regarde ensuite où se trouve la

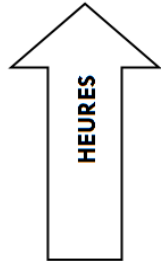

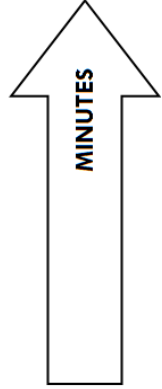
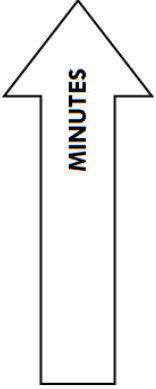
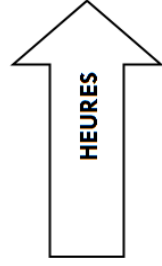
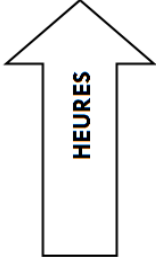
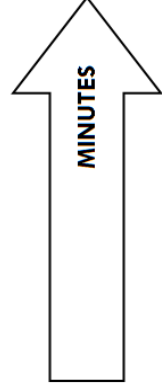
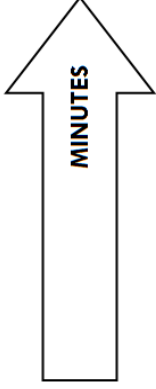
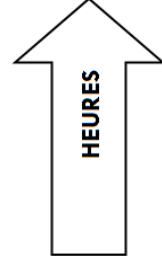
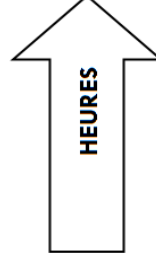
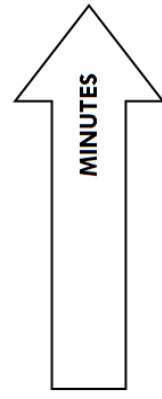
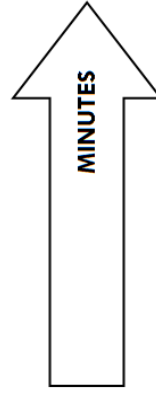
_____.



3- **Lire l'heure**

Écris l'heure dans d'autres villes du Monde quand il est 16h15 à Paris :





Lire l'heure

