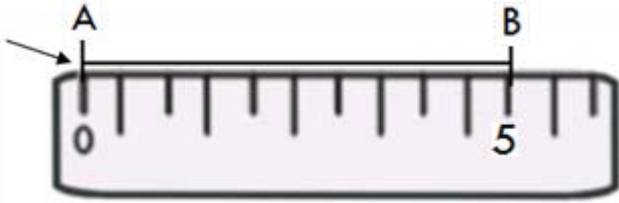


Mesurer un segment

Pour mesurer la longueur d'un segment, j'utilise la règle.

Je place bien le **0** de la règle à l'**extrémité gauche** du segment.

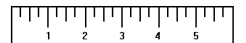


Je lis la longueur sur la règle en regardant l'**extrémité droite** du segment.

Le segment [AB] mesure 5 cm.

Les longueurs

On mesure des petits objets avec une règle graduée en centimètre (cm).




Mais selon la taille ou la longueur à mesurer, on utilise les :

Millimètres
mm



Centimètres
cm



Mètres
m



Kilomètres
km



1 cm = 10 mm
3 cm = 30 mm
4 cm et 5 mm = 45 mm

1 m = 100 cm
3 m = 300 cm
4 m et 51 cm = 451 cm

1 km = 1000 m
3 km = 3000 m
4 km et 150 m = 4150 m